

1) Aşağıdaki verilenlerden hangisi doğrudur?

- A) Kullandığımız kaynaklara hiçbir ücret ödemeyiz.
- B) Kaynakları tüketmemek için tasarruflu kullanmalıyız.
- C) Tabağımıza ihtiyacımızdan fazla yemek almalıyız.

2) ❖ Denize düşen yılanı sarılır.
❖ Damlaya damlaya göl olur.
❖ Ayağını yorganına göre uzat.

Yukarıdaki atasözlerinden kaç tanesi tasarruflu olmak ile ilgilidir?

- A) 1
- B) 2
- C) 3

3) Kaynakları bilinçli kullanan birisi aşağıdakilerden hangisini yapmaz?

- A) Gündüz ışıkları açık bırakır.
- B) Harcamalarını aile bütçesine göre yapar.
- C) Alışverişte ihtiyaçlarına öncelik verir.

4) Giyeceklerin kullanımında tasarruflu olmak isteyen birisi aşağıdaki davranışlardan hangisini yapar?

- A) Okul ayakkabısı ile futbol oynar.
- B) Giyeceklerini özenli kullanır.
- C) Her zaman yeni giysiler alır.

5) Aşağıdakilerden hangisi bir tasarruf önerisi olamaz?

- A) Evimizde tasarruflu ampuller kullanabiliriz.
- B) Çok enerji harcayan elektronik eşya kullanmalıyız.
- C) Kullanmadığımız zamanlarda elektrikli aletleri kapatmalıyız.

6) Aşağıdakilerden hangisi ekmek israfını önleyici bir çözüm değildir?

- A) Ekmeği ihtiyacımız kadar alıp dilimleyerek tüketmek.
- B) Bayat ekmekleri yemek ve tatlı yapımında kullanmak.
- C) Evimize bol miktarda ekmek almak.

7)



İrem

Paramızı harcarken nelere dikkat etmeliyiz?




İrem'in sorusunun cevabı aşağıdakilerden hangisidir?

- A) Her hoşumuza giden şeyi almalıyız.
- B) Tutumlu davranmaya dikkat etmeliyiz.
- C) İsteddiğimiz gibi alışveriş yapmalıyız.

8) Günlük yaşantımızda evde elektrik, su, doğal gaz gibi kaynakları kullanırız. Kullandığımız bu kaynakların karşılığında ne veririz?

- A) para B) fatura C) kaynak

9) Aşağıdaki öğrencilerden hangisi tasarruflu davranmıştır?

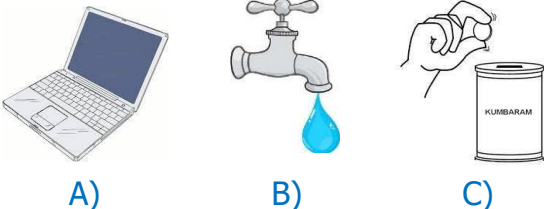
- A)  Tabağıma her zaman fazla yemek alırım.
- B)  Dişlerimi fırçalarken musluğu kapatırım.
- C)  Ben ders çalışırken televizyon da açık olur.

10) Günlük yaşamımızda evde, —, — ve — gibi kaynakları kullanırız.

Yukarıdaki cümlede boş yerlere sırasıyla hangileri yazılmalıdır?

- A) elektrik-su-doğalgaz
B) para-ekmek-fatura
C) gıda-mutfak-temizlik

11) Aşağıdaki görsellerden hangisi tasarruf ile ilgilidir?



12) Kaynakları tasarruflu kullanmamızın sebebi aşağıdakilerden hangisi olamaz?

- A) Kaynakların tükenmesini sağlamak.
B) Aile bütçemize katkı sağlamak.
C) İsrafi önlemek.

13) Aşağıdakilerden hangisi mutfağımızda tasarruf sağlar?

- A) Yiyebileceğimizden fazla yemek pişirmek.
B) Gereksiz yiyeceklerden almak.
C) Tüketebileceğimiz kadar yemek yapmak.

- 14)
❖ Elektrik
❖ Su
❖ Doğalgaz
❖ Kömür

Yukarıdaki verilenlerden kaç tanesi evimizde kullandığımız kaynaklardandır?

- A) 2 B) 3 C) 4

15)



İzlemediğimiz zamanlarda televizyonu —.

Mert'in cümlesi hangisi ile tamamlanmalıdır?

- A) kapatmalıyız.
B) açık tutmalıyız.
C) sesini kısmalıyız.